

4.

NÁSOBÍČÍ OPICE

S pomocí násobící opice zjistíš, zda jsou čísla dělitelná 12, pokud ano, zakroužkuj je. Pomůže ti s tím naše násobící opice. Použij její ruce a počítej.

144 121 108 90 85 72
60 42 36 27 12



5.

BALANCOVNÍK A ŠIFROVÁNÍ

Prohlédni si důkladně obrázek a zakreslenou situaci vytvoř na balancovníku. Aby se loď vyrovnala, musíme na pravou stranu lodi přidat jedno stříbrné závaží. Na kterou pozici ho musíme přidat? Pohraj si s rovnováhou lodi a vyzkoušej všechny možnosti.




na první pozici



na druhou pozici



na třetí pozici



Správná odpověď tohoto úkolu je zašifrována v těchto dvou slovech: IWZMF UTENHJ (klíč 5).

najdi exponát šifrování a ověř si, že jsi našel správnou odpověď.

IWZMF UTENHJ




6.

PROCENTA


Prohlédni si grafiku na stěně věnovanou procentům.

Ve čtvercové síti (10 x 10) vybarvi takovou část, která odpovídá uvedenému počtu procent.


1%



25%



50%



99%

