


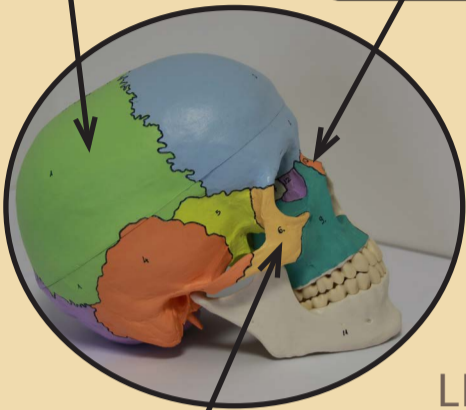
KOSTERNÍ SOUSTAVA

Mapa lidského těla I

DÝCHACÍ SOUSTAVA

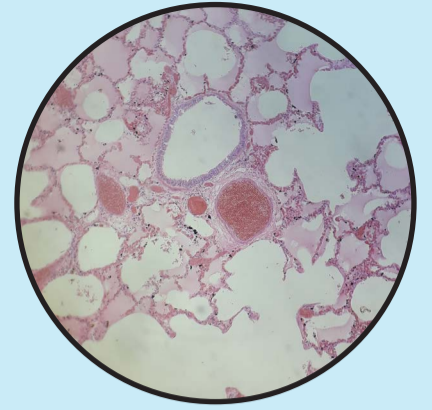
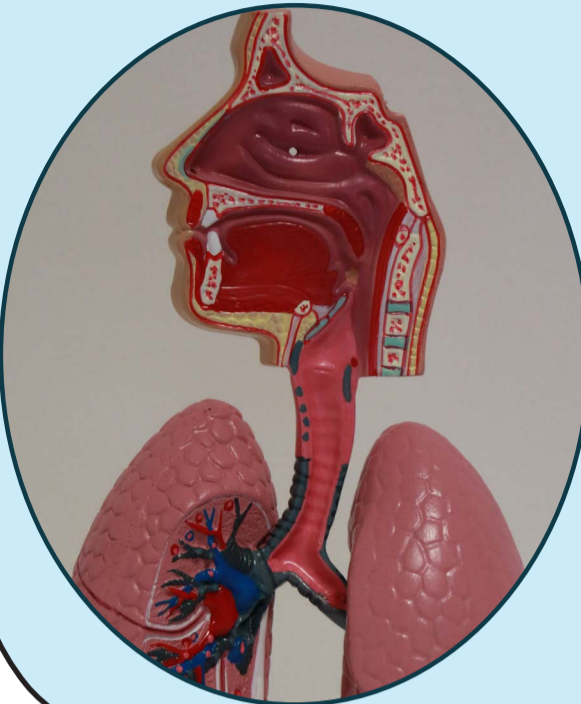


Jak se nazývá základní stavební jednotka kompaktní kosti?



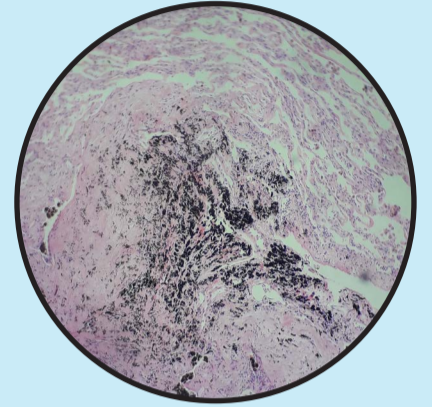
LEBKKA

Zakreslete umístění hrtanové příklopky.

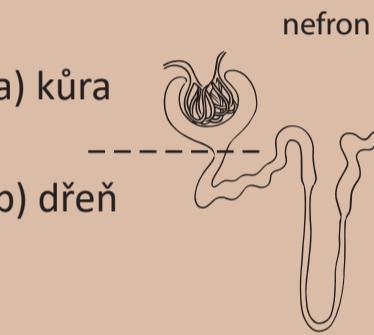
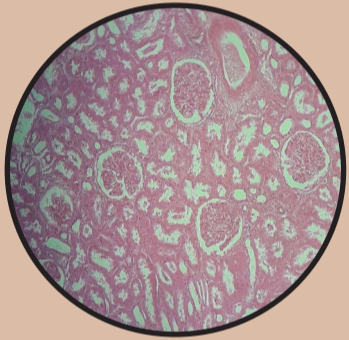


infarkt plic

tuberkulóza

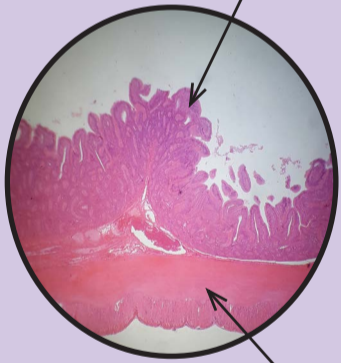


VYLUČOVACÍ SOUSTAVA



LEDVINA

tenké střevo



- žaludek
- jícen
- tenké střevo
- dutina ústní
- tlusté střevo
- hltan

TRÁVICÍ SOUSTAVA

Do obrázku dopište, o jaké části kůže se jedná.



otisk prstu

KOŽNÍ SOUSTAVA

kosterní svalovina

srdeční svalovina

pravá ruka levá ruka

síla stisku: _____ síla stisku: _____

SVALOVÁ SOUSTAVA



EVROPSKÁ UNIE
Evropské strukturální a investiční fondy
Operační program Výzkum, vývoj a vzdělávání

