


# KOLOBĚHVODY



1. Popiš co nejpodrobněji, co je nakresleno na obrázku.




---

---

---

2. Voda se v přírodě nachází ve 3 skupenstvích. Která to jsou?

---



3. Napiš, co víš o různých druzích vody:

Pitná voda: \_\_\_\_\_

Destilovaná voda: \_\_\_\_\_

Užitková voda: \_\_\_\_\_

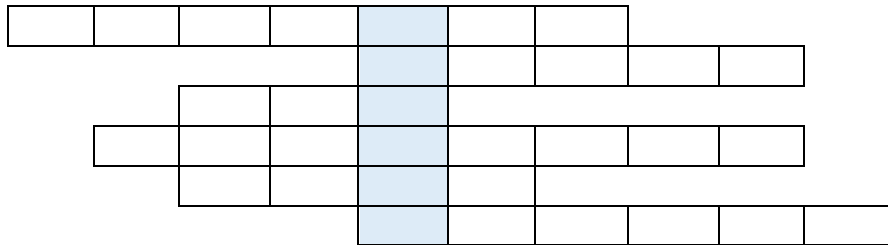
Odpadní voda: \_\_\_\_\_



4. Vyplň doplňovačku a napiš správné odpovědi do políček:



- Jak se nazývá systém potrubí dopravující vodu do domů?
- Jak se nazývá vodní útvar, ve kterém je nejvíce slané vody na Zemi?
- Jak se nazývá voda v pevném skupenství?
- Co je nejčastější potravou velkých ryb a velryb v moři?
- Jak říkáme vodě v podobě vloček, které v zimě padají z mraků?
- Který plyn vytváří mořské řasy ve velkém množství?



Tajenka: \_\_\_\_\_

Nakresli obrázek postavy, která ti vyšla v tajence:

