

Rozpoznej státy v Evropě a napiš jejich názvy.  
Pomoci ti může exponát „Poznáš zem?“.

1.

POZNEJ STÁT

chodba 2. patro



.....

.....



.....

.....

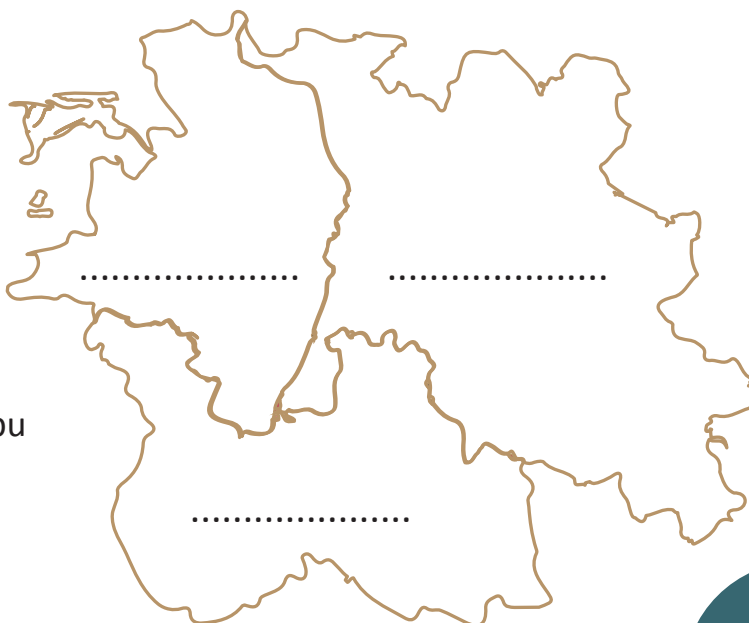
.....

2.

## Euroregion NISA

TULaborka - 2. patro

- Které státy patří do Euroregionu NISA?
- Zatoč válci a srovnej tak mapu Euroregionu NISA. Do mapy v pracovním listu zakresli místa s největším úhrnem srážek za rok.



.....

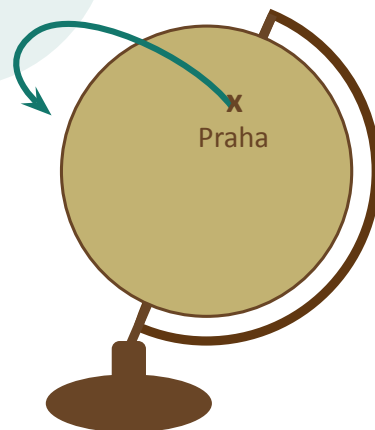
.....

.....



Vžij se do role dvou pilotů. První svůj let z Prahy do San Francisca plánuje pomocí mapy a druhý s glóbusem. Zaškrtni, nad kterými státy plánují letět.

	MAPA	GLÓBUS
Německo	<input type="checkbox"/>	<input type="checkbox"/>
Velká Británie	<input type="checkbox"/>	<input type="checkbox"/>
Grónsko	<input type="checkbox"/>	<input type="checkbox"/>
Kanada	<input type="checkbox"/>	<input type="checkbox"/>



Jak je možné, že se plánované trasy tak liší?



.....

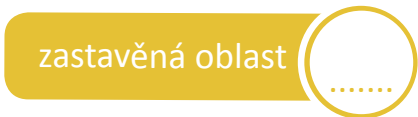
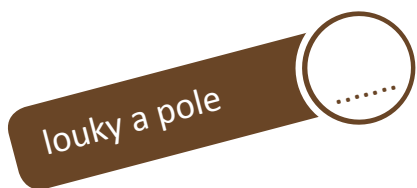
.....

4.

Liberec dříve a nyní

TULaborka - 2. patro

Podívej se mapu Liberce z roku 2014. Poznej liberecké oblasti a očíslej je pomocí mapy.



Pomocí snímáče pohybu změň nástěnnou projekci na mapu z roku 1938. Najdi 3 odlišnosti proti roku 2014.

.....

.....

.....

